



名校联考卷(一)



时间：60 分钟 满分：100 分

题号	一	二	三	四	五	六	七	八	九	总分
得分										

rèn zhēn tián kòng

一、认真填空。(26 分)

1. 一个两位数,十位上的数字比 4 小,个位上的数字比 4 大,这个两位数最大是(),最小是()。

2. 3 元 2 角=()角

1 元=()分

70 角=()元

18 分=()角()分

3. ()里最大填几?

37+()<40

9+()<15

27+()<65

32+()<51

4. 在连续自然数中,30 在()和()的中间,这两个数的和是()。

5. 把下面卡片上的数按从小到大的顺序排列。

78

54

43

36

80

()<()<()<()<()

6. 用

6
1 4 2 3
5

 做成一个 , 数字“4”的对面是数字“()”。

7.

(1) 与 左边相邻的是(),右边相邻的是()。

(2) 在 的()边,在 的()边。

(3) 的左边有()个图形,右边有()个图形。

zhǔn què pàn duàn

二、准确判断。(对的打“√”,错的打“×”)(5 分)

1. 十位上是 9 的两位数有 9 个。

()

2. 二十几加上三十几,一定是五十几。


()




3. 一个数,从右起第一位是百位。

()

4. 两个相同的



能拼成一个



。

()

5. 水果在肉的上面,肉一定在水果的下面。

()

wǒ huì lián

三、我会连。(8分)




83



51




72



sēn lín yī shēng

四、森林医生。(6分)



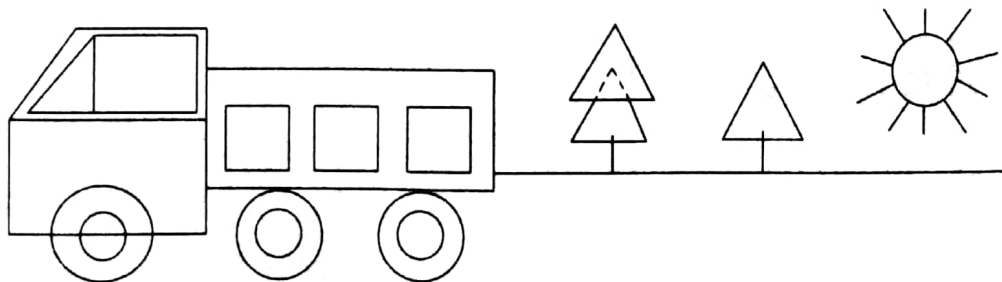
医治:



医治:

shǔ yì shǔ tián yì tián

五、数一数,填一填。(8分)



长方形有()个;正方形有()个;三角形有()个;圆有()个。



六、按要求做题我最棒。(18分)

1. 列竖式计算。(16分)

$59 + 26 =$

$34 + 65 =$

$48 + 35 =$

$62 - 38 =$





$69 - 17 =$

$84 - 46 =$

$32 + 41 =$

$84 - 31 =$

2. 猜岁数。(2分)

			
比爸爸小得多。	比妈妈大一些。	比爸爸小一些。	比妈妈大得多。

他们可能分别是多少岁？在可能的岁数下面画“√”。

	①	②	③
孩子	28岁	5岁	40岁
爸爸	32岁	32岁	17岁
妈妈	40岁	30岁	14岁
爷爷	76岁	60岁	30岁

()

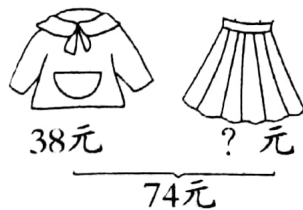
()

()

kàn tú liè shì jì suàn

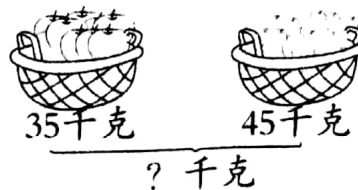
七、看图列式计算。(6分)

1.



$\square \bigcirc \square = \square (\text{元})$

2.




$\square \bigcirc \square = \square (\text{千克})$



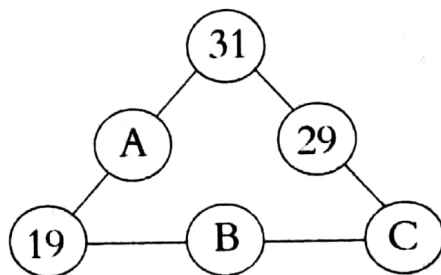
八、动手操作。(8分)

1. 涂一涂。(5分)





长方形涂紫色,正方形涂黄色,三角形涂绿色,圆涂红色。



2. 在○里填数,使每条线上三个数的和都是100。(3分)



九、走进生活。(15分)

1.  有 32 个彩球,  比  多 13 个,  有多少个彩球? (5分)

2. 蟹老板的收入。(10分)

(1) 蟹老板上午卖出 25 个蟹黄堡,下午卖出 18 个蟹黄堡,一天一共卖出了多少个蟹黄堡?

(2) 章鱼哥为举办派对在蟹老板的面包店预定了 56 个蟹黄堡,但是来的客人太少了,章鱼哥又退掉了 18 个,它一共用了多少个蟹黄堡?

